











<p>Aufgabe zur Stadt Olten</p>	<p>1</p> 	<p>Aufgabe: Trage die Nummer auf dem Stadtplan am richtigen Ort ein! Die Zeit spielt dabei keine Rolle! Wann Ihr zurück sein müsst, sagt die Lehrkraft! Spätestens: Uhr</p>
<p>2</p> 	<p>3</p> 	<p>4</p> 
<p>5</p> 	<p>6</p> 	<p>7</p> 
<p>8</p> 	<p>9</p> 	<p>10</p> 

Zusatzaufgabe: Erstellt auf der Rückseite des Stadtplanes eine Bildlegende 1-10 und versucht herauszufinden wie die Gebäude heissen.
... und nun viel Erfolg!